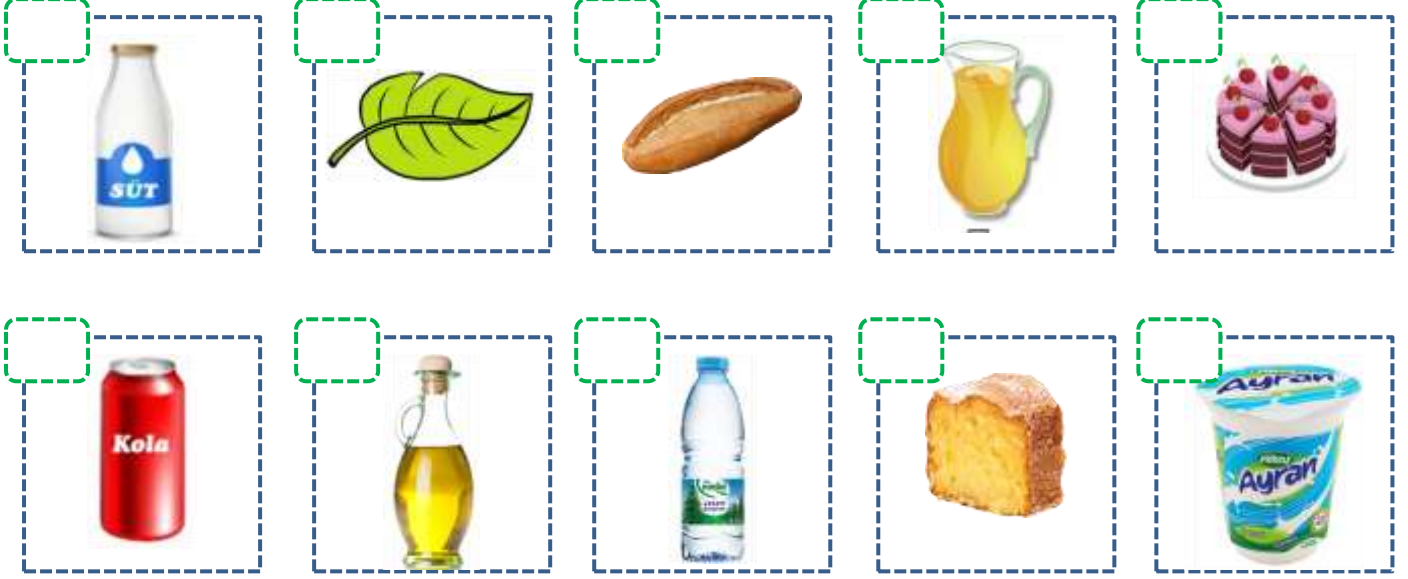


Adı : .....  
Soyadı: .....

## 2. Sınıf Matematik

### Sıvıları Ölçme-1

Sıvı (döküldüğünde akıp giden) olan varlıkları işaretleyiniz.



Sıvıları hangi nesnelerin içine döküp ölçebiliriz?



Hangisi daha çok sıvı alır?




Adı : .....  
Soyadı: .....

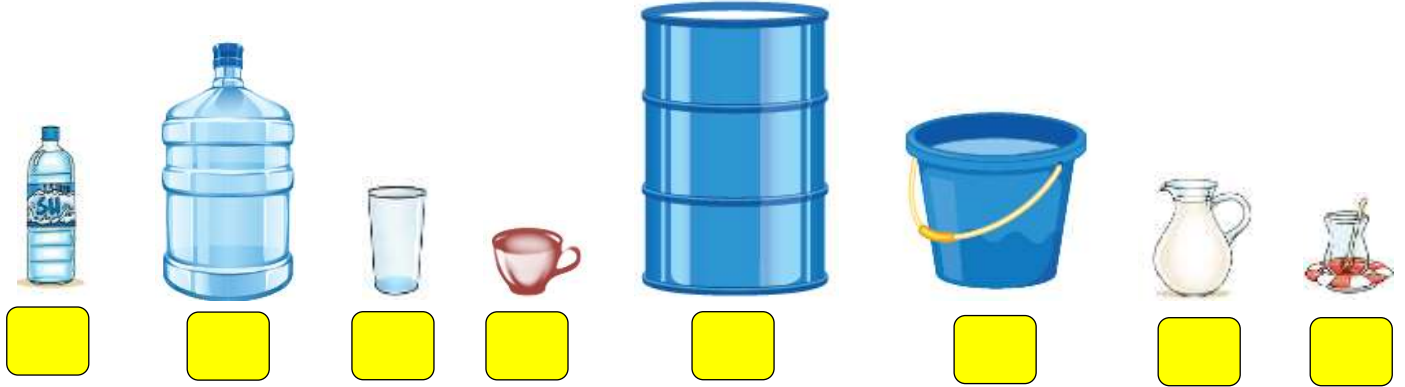
## 2. Sınıf Matematik

## Sıvıları Ölçme-1

Hangisi daha az sıvı alır?



En çok sıvı alandan en az sıvı alanlara doğru sıralayınız.



En az sıvı alandan en çok sıvı alanlara doğru sıralayınız.

